

Wiskunde - Graad 7

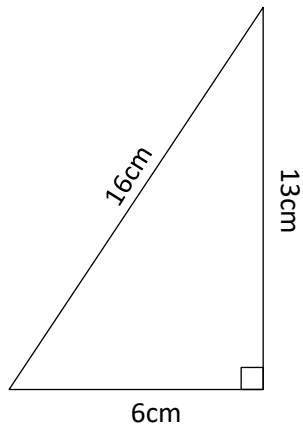
Vrydag, 15 Mei 2020

Aktiwiteit

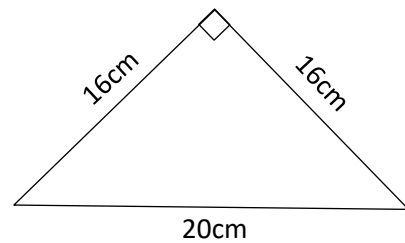
Voltooi nou die volgende opdrag om te sien wat jy verstaan het.

1. Bereken die oppervlakte van die volgende reghoekige driehoeke deur die korrekte formule te gebruik.

(a)

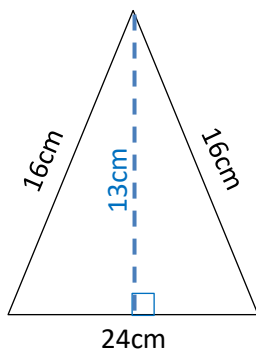


(b)

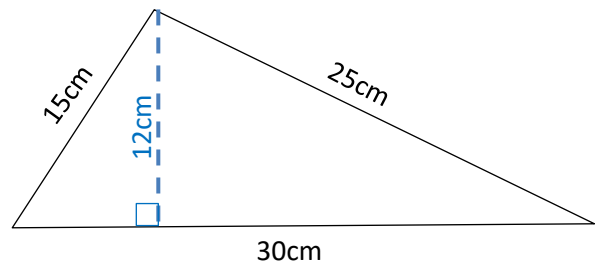


2. Bereken die oppervlakte van die volgende driehoeke deur die korrekte formule te gebruik.

(a)



(b)



(c)

